

WRITTEN TEST FOR THE POST OF JUNIOR CLERK PAY MATRIX LEVEL-2
National Academy of Indian Railways (N.A.I.R)

जूनियर क्लर्क पद के लिए लिखित परीक्षा वेतनमैट्रिक्स स्तर -2
भारतीय रेलवे राष्ट्रीय अकादमी (एनएआईआर)

Total Marks/कुल अंक:100

Time/ समय:2.0 hours/घंटा

INSTRUCTIONS:निर्देश:

1. The answer can be given either in Hindi or in English.जवाब हिंदी में या अंग्रेजी में दिया जा सकता है।
2. Attempt any 100 questions.केवल भी 100 प्रश्नों के लिए उत्तर दें।
3. Each question carries 1 mark.प्रत्येक प्रश्न का 1 अंक है।
4. Negative marking applicability will be as per the railway board rule./रेलवे बोर्ड के नियम के अनुसार नेगेटिव मार्किंग की प्रयोज्यता होगी।
5. Cutting,overwriting ,erasing ,scoring off a ticked answer and ticking another answer , modifying the answer in any form is not admissible.काटना, ओवरराइट करना, मिटा देना,एक टिके हुए उत्तर को मिटाना और दूसरे उत्तर को टिक करना ,किसी भी रूप में उत्तर को संशोधित करना स्वीकार्य नहीं है।

Q.N					
1	She wants to become ----- engineer				B
	A	A	B	AN	
	C	THE	D	NO ARTICLE	
2	----- Oranges are grown in Nagpur				D
	A	A	B	AN	
	C	THE	D	NO ARTICLE	
3	Select the odd one out				C
	A	Blackboard	B	Duster	
	C	Computer	D	Chalk	
	Prasanna would have reached Bangalore by this time.				

	A	Present perfect	B	Past perfect	
	C	Future perfect	D	simple past	
5	How many pegs of wine.....yesterday?				D
	A	you have drank	B	were you drinking	
	C	do you drink	D	did you drink	
6	I was watching TV when she.....in.				B
	A	comes	B	came	
	C	come	D	was coming	
7	Find the correctly spelt word. 1. Aprentice 2. Apprentice 3. Aparentice 4. Apperentice				B
	A	1	B	2	
	C	3	D	4	
8	Ram said to me, "I am going to Jaipur."				A
	A	Ram told me that he was going to Jaipur.	B	Ram told me that I was going to Jaipur.	
	C	Ram told me that he is going to Jaipur.	D	Ram told me that he were going to Jaipur.	
9	Select the one which best expresses the same sentence Passive/Active Voice. You surprise me.				
	A	I am to be surprised.	B	You are surprised	

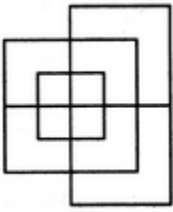
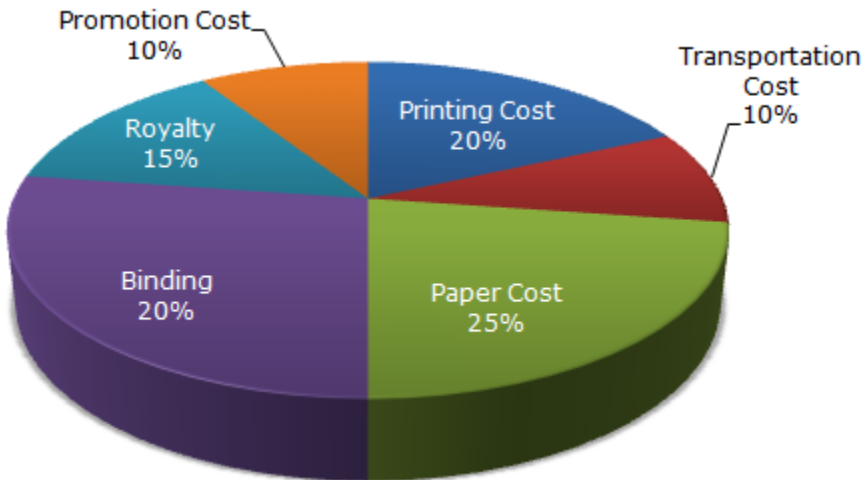
	C	I am surprised.	D	Me is surprised	
10	Select the proper prefix.: Vegetarian				B
	A	en	B	non	
	C	un	D	an	
11	Since he knew what would happen, he should be left to <i>stew in his own juice</i>				C
	A	Make a stew	B	Boil	
	C	Suffer for his own act	D	Suffer in his own juice	
12	Identify synonyms: Repellent				D
	A	porous	B	elastic	
	C	stiff	D	unattractive	
13	Identify synonyms: Plagiarism				B
	A	theft of funds	B	theft of ideas	
	C	arson	D	belief in Gods	
14	Jawaharlal spent his childhood _____ Anand Bhawan.				A
	A	in	B	on	
	C	over	D	across	
15	God is _____				C
	A	graceful	B	grateful	
	C	gracious	D	grace	
16	Select Correct Word				
	A	Aceleration	B	Acceleration	


	C	Accelaration	D	Aceeleration	
17	Select Correct Word				B
	A	Cheqe	B	Cheque	
	C	Ceque	D	Chequee	
18	Bolt from the blue				C
	A	Thundering	B	Inform something bad	
	C	A complete surprise	D	Member of high-class society	
19	<u>Each and every one of you are guilty</u> of some crime or the other.				A
	A	Each and every one of you is guilty	B	No improvement	
	C	Everyone are guilty	D	Each and each of you are guilty	
20	The Amazon in Brazil is ---- longest river in ---- South America.				A
	A	the / -	B	- / the	
	C	- / -	D	the / the	
21	A shuttlecock used for playing badminton has the shape of the combination of .बैडमिंटन खेलने के लिए इस्तेमाल किए जाने वाले एक शटलकॉक के संयोजन का आकार है।				D
	A	a cylinder and a sphere/एक सिलेंडर और एक गोला	B	a sphere and a cone/एक गोले और एक शंकु	
	C	a cylinder and a hemisphere/एक सिलेंडर और एक गोलार्द्ध	D	frustum of a cone and a hemisphere/एक शंकु और एक गोलार्द्ध के फ्रम	
22	The probability of getting exactly one head in tossing a pair of coins is.सिक्के के एक जोड़े को उछालने में ठीक एक सिर होने की संभावना है।				C
	A	0	B	1	
	C	1/2	D	1/3	
23	Priya obtained 65, 67, 76, 82, and 85 out of 100 in different subjects, What will be the average.प्रिया ने विभिन्न विषयों में 100 में से 65, 67, 76, 82, और 85 प्राप्त किए, औसत क्या होगा।				
	A	70	B	75	

	C	80	D	85	
24	<p>Marks of a student were wrongly entered in computer as 83, actual marks of that student were 63. Due to this mistake, the average marks of the whole class got increased by half ($1/2$). Find the total number of students in that class. एक छात्र के मार्क्स को गलत तरीके से कंप्यूटर में 83 के रूप में दर्ज किया गया था, उस छात्र के वास्तविक अंक 63 थे। इस गलती के कारण, पूरी कक्षा के औसत अंक आधे ($1/2$) बढ़ गए। उस कक्षा में छात्रों की कुल संख्या ज्ञात कीजिए।</p>				D
	A	25	B	30	
	C	35	D	40	
25	<p>Raju's age after 15 years will be 5 times his age 5 years back. What is the present age of Raju? 15 साल बाद राजू की उम्र 5 साल पहले उसकी उम्र के 5 गुना होगी। राजू की वर्तमान आयु क्या है?</p>				A
	A	10	B	20	
	C	5	D	25	
26	<p>A teacher took an exam for English, the average for the entire class was 80 marks. If 10% of the students scored 95 marks and 20% scored 90 marks then calculate the average marks of the remaining students of the class. एक शिक्षक ने अंग्रेजी के लिए एक परीक्षा दी, पूरी कक्षा के लिए औसत 80 अंक था। यदि 10% छात्रों ने 95 अंक और 20% ने 90 अंक प्राप्त किए हैं तो कक्षा के शेष छात्रों के औसत अंकों की गणना करें।</p>				C
	A	60	B	65	
	C	75	D	80	
27	<p>The pair of books were bought for Rs 37.40 at a discount of 15%. What must be the marked price of each of the books? किताबों की जोड़ी को 15% की छूट पर 37.40 रुपये में खरीदा गया। प्रत्येक पुस्तक का चिह्नित मूल्य क्या होना चाहिए?</p>				B
	A	20	B	22	
	C	25	D	37	
28	<p>There is a circular path around a sports field. Priya takes 18 minutes to drive one round of the field. Harish takes 12 minutes. Suppose they both start at the same point and at the same time and go in the same direction. After how many minutes will they meet? एक खेल मैदान के चारों ओर एक गोलाकार रास्ता है। प्रिया को मैदान का एक चक्कर लगाने में 18 मिनट लगते हैं। हरीश को 12 मिनट लगते हैं। मान लीजिए कि वे दोनों एक ही बिंदु पर और एक ही समय पर शुरू करते हैं और एक ही दिशा में चलते हैं। कितने मिनट बाद मिलेंगे ?</p>				

	A	36 minutes/मिनट	B	6 minutes/मिनट	
	C	18 minutes/मिनट	D	They will not meet/वे नहीं मिलेंगे	
29	<p>If Navin sells a 'sari' for Rs 5200. He makes a profit of 30%. Then what is the cost price of the sari is/यदि नवीन 5200 रुपये में। साड़ी 'बेचता है। वह 30% का लाभ कमाता है। फिर साड़ी की कीमत क्या है</p>				
	A	Rs 4420/4420 रु	B	Rs 3900/3900 रु	
	C	Rs 4000/4000 रु	D	Rs 3800/3800 रु	C
30	<p>The price of petrol has increased by 25%. By what percent should Kishore reduce the consumption of petrol so as not to increase the expenditure on this account?/पेट्रोल की कीमत में 25% की वृद्धि हुई है। किशोर को किस प्रतिशत से पेट्रोल की खपत को कम करना चाहिए ताकि इस खाते पर व्यय में वृद्धि न हो?</p>				
	A	20%	B	25%	
	C	10%	D	30%	A
31	<p>If '-' means '+', '+' means '-', '*' means '÷' and '÷' means '*' then which of the following will be the correct equation? यदि '-' 'का अर्थ है' +, '+' 'का अर्थ है' -, '*' 'का अर्थ है' ÷ तथा '÷' 'का अर्थ है' * फिर निम्नलिखित में से कौन सा सही समीकरण होगा?</p>				
	A	$30 + 5 + 14 - 10 * 15 = 122$	B	$10 + 5 - 14 \div 10 * 15 = 158$	
	C	$30 + 5 + 14 - 10 * 15 = 122$	D	$30 * 5 - 4 \div 10 + 15 = 31$	D
32	<p>Look at this series: 7, 10, 8, 11, 9, 12, ... What number should come next? इस श्रृंखला को देखें: 7, 10, 8, 11, 9, 12, ... आगे कौन सी संख्या आनी चाहिए?</p>				
	A	7	B	10	
	C	12	D	13	B
33	<p>CMM, EOO, GQQ, _____, KUU</p>				
	A	ITT	B	GSS	
	C	ISS	D	GRR	C
34	<p>Which word does NOT belong with the others? कौन सा शब्द दूसरों के साथ नहीं है?</p>				
	A	inch/इंच	B	yard/गज	

D

	C	centimeter/सेंटीमीटर	D	ounce/औंस	
35	 <p>Find the minimum number of straight lines that are required to make the given figure. दी गई आकृति बनाने के लिए आवश्यक सीधी रेखाओं की न्यूनतम संख्या ज्ञात कीजिए।</p>				
	A	9	B	15	
	C	17	D	13	D
36	<p>Which will be the day of the week on 15th August 2047? 15 अगस्त 2047 को सप्ताह का दिन कौन सा होगा?</p>				
	A	Sunday/रविवार	B	Monday/सोमवार	
	C	Tuesday/मंगलवार	D	Thursday/गुरुवार	D
37	 <p>The following pie-chart shows the percentage distribution of the expenditure incurred in publishing a book. Study the pie-chart and answer the questions based on it. निम्नलिखित पाई-चार्ट किसी पुस्तक को प्रकाशित करने में हुए व्यय का प्रतिशत वितरण दर्शाता है। पाई-चार्ट का अध्ययन करें और उसके आधार पर प्रश्नों के उत्तर दें। (QN 37 & 38)</p> <p>If for a certain quantity of books, the publisher has to pay Rs 30,600 as printing cost, then what will be the amount of royalty to be paid for these books? यदि पुस्तकों की एक निश्चित मात्रा के लिए, प्रकाशक को मुद्रण लागत के रूप में 30,600 रुपये का भुगतान करना पड़ता है, तो इन पुस्तकों के लिए रॉयल्टी की राशि का भुगतान क्या होगा?</p>				

	A	19,450	B	21,200	
	C	22,950	D	26,150	
38	<p>If for an edition of the book, the cost of paper is Rs 56250, then find the promotion cost for this edition. यदि पुस्तक के एक संस्करण के लिए, कागज की लागत 56250 रुपये है, तो इस संस्करण के लिए प्रचार लागत खोजें।</p>				
	A	20,000	B	22,500	
	C	25,500	D	27,500	B
39	<p>A shopkeeper has a sale of Rs 6435, Rs 6927, Rs 6855, Rs 7230, and Rs 6562 for consecutive 05 months. How much sale must he have in the sixth month so that he gets an average sale of Rs 6500? एक दुकानदार की 6435 रुपये, 6927 रुपये, 6855 रुपये, 7230 रुपये और 6562 रुपये 05 महीने की बिक्री है। छठवें महीने में उसकी कितनी बिक्री होनी चाहिए ताकि उसे औसत बिक्री 6500 रुपये मिले?</p>				
	A	4991	B	5991	
	C	6991	D	3991	A
40	<p>A clock is showing 8 o'clock in the morning. Through how many degrees will the hour hand rotate when the clock shows 2 o'clock in the afternoon? एक घड़ी में सुबह के 8 बज रहे हैं। जब घड़ी दोपहर के 2 बजे दिखाती है तो घंटे का हाथ कितने डिग्री घूमता है?</p>				
	A	144°	B	154°	
	C	150°	D	180°	D
41	<p>Which of the following is not a valid domain name? निम्नलिखित में से कौन एक मान्य डोमेन नाम नहीं है?</p>				
	A	www.yahoo.com	B	www.yahoo.co.uk	
	C	www.com.yahoo	D	www.yahoo.co.in	C
42	 <p>The logo pertains to /लोगो से संबंधित है</p>				

	A	zoom/ज़ूम	B	Cisco Webex/सिस्को वीबेक्स	
	C	Google meet/गूगल मीट	D	Microsoft Team/माइक्रोसॉफ्ट टीम	
43	which state became the first state in India to declare man-animal conflict a state-specific disaster?/कौन सा राज्य भारत का पहला राज्य बन गया है जिसने मानव-पशु संघर्ष को राज्य-विशिष्ट आपदा घोषित किया है?				
	A	Gujarat/गुजरात	B	Madhya Pradesh/मध्य प्रदेश	
	C	Tamil Nadu/तमिलनाडु	D	Kerala/केरल	D
44	'MOV' extension refers usually to what kind of file?'.MOV' एक्सटेंशन आमतौर पर किस तरह की फाइल को संदर्भित करता है?				
	A	Image file/ छवि फ़ाइल	B	Animation/movie file/एनीमेशन / फिल्म फ़ाइल	
	C	Audio file/ऑडियो फाइल	D	MS Office document/एमएस ऑफ़िस दस्तावेज़	B
45	Which among the rulers of Magadh founded the city of Patliputra (Patna) on the bank of river Ganges?/मगध के शासकों में से किसने गंगा नदी के तट पर पाटलिपुत्र (पटना) शहर की स्थापना की थी?				
	A	Bimbisara/बिम्बिसार	B	Chandragupta Maurya/चन्द्रगुप्त मौर्य	
	C	Bindusara/बिंदुसार	D	Ajatshatru/अजातशत्रु	D
46	“Sur Sagar”, a treatise on music was written during the reign of which of the following Mughal emperors?/संगीत पर एक ग्रंथ “सूर सागर” निम्नलिखित में से किस मुगल सम्राट के शासनकाल के दौरान लिखा गया था?				
	A	Akbar/अकबर	B	Jahanagir/जहांगीर	
	C	Humayun/हुमायूं	D	Shahjahan/शाहजहां	A
47	Railway Employee can view his salary slip online over which system.रेलवे कर्मचारी किस सिस्टम पर अपनी वेतन पर्ची ऑनलाइन देख सकता है।				
	A	RESS	B	UMID	
	C	HRMS	D	IPAS	A

48	WHICH OF THE FOLLOWING IS A VALID HRMS ID. निम्नलिखित की जो एक वैध एचआरएमएस आईडी है।				A
	A	KHIECD	B	123456	
	C	KH@#CD	D	NONE OF THE ABOVE/इनमे से कोई भी नहीं	
49	YOU WANT TO TYPE A LETTER ON COMPUTER. WHICH FILE FORMAT WILL BE USED BY YOU. /आप कंप्यूटर पर एक पत्र टाइप करना चाहते हैं। आप कौन सा फाइल फॉर्मेट उपयोग करना चाहेंगे .				B
	A	.XLS	B	.DOC	
	C	.PPT	D	.MOV	
50	The Treaty of Seringapatam is associated with which of the following wars? श्रीरंगपट्टनम की संधि निम्नलिखित में से किस युद्ध से संबंधित है?				D
	A	Third Anglo-Maratha War/तीसरा एंग्लो-मराठा युद्ध	B	Second Anglo-Maratha War/दूसरा एंग्लो-मराठा युद्ध	
	C	Fourth Anglo-Mysore War/चौथा एंग्लो-मैसूर युद्ध	D	Third Anglo-Mysore War/तीसरा एंग्लो-मैसूर युद्ध	
51	'Teacher's Day' is observed on which of the date? 'शिक्षक दिवस' किस तारीख को मनाया जाता है?				C
	A	January 30/30 जनवरी	B	November 14/14 नवंबर	
	C	September 5/5 सितंबर	D	October 2/2 अक्टूबर	
52	Where is the National Academy Of Indian Railway located? नेशनल एकेडमी ऑफ़ इंडियन रेलवे कहाँ स्थित है?				A
	A	Vadodara/वडोदरा	B	Pune/पुणे	
	C	Delhi/दिल्ली	D	Allahabad/इलाहाबाद	
53	The famous Dilwara Temples are situated in/प्रसिद्ध दिलवाड़ा मंदिर स्थित हैं.				D
	A	Uttar Pradesh/उत्तर प्रदेश	B	Madhya Pradesh/मध्य प्रदेश	
	C	Maharashtra/महाराष्ट्र	D	Rajasthan/राजस्थान	

54	Every year Bulk of the rainfall received during the Monsoon seasons in almost all parts of India. Which among the following state is an exception to this?/हर साल मानसून के मौसम में भारत के लगभग सभी भागों में भारी बारिश होती है। निम्नलिखित में से कौन सा राज्य इसका अपवाद है?				B
	A	Karnataka/कर्नाटक	B	Tamil Nadu/तमिलनाडु	
	C	Andhra Pradesh/आंध्र प्रदेश	D	Kerala/केरल	
55	Which of the following is best soil to grow cotton? /कपास उगाने के लिए निम्न में से कौन सी मिट्टी सबसे अच्छी है?				A
	A	Black soil/काली मिट्टी	B	Laterite Soil/लेटराइट मिट्टी	
	C	Alluvial Soil/जलोढ़ मिट्टी	D	Red Soil/लाल मिट्टी	
56	Which among the following language is NOT there in the 8th Schedule of the Constitution of India?/निम्नलिखित में से कौन सी भाषा भारत के संविधान की 8वीं अनुसूची में शामिल नहीं है?				D
	A	Sindhi/सिंधी	B	Manipuri/मणिपुरी	
	C	Dogri/डोगरी	D	Rajasthani/राजस्थानी	
57	What is the predominant type of Indian agriculture?भारतीय कृषि का प्रमुख प्रकार क्या है?				D
	A	Commercial agriculture/वाणिज्यिक कृषि	B	Extensive agriculture/व्यापक कृषि	
	C	Plantation agriculture/वृक्षारोपण कृषि	D	Subsistence agriculture/जीविका कृषि	
58	The Redcliffe line is a boundary between /रेडक्लिफ रेखा एक सीमा है				B
	A	India and Afghanistan/भारत और अफगानिस्तान	B	India and Pakistan/भारत और पाकिस्तान	
	C	India and China/भारत और चीन	D	India and Myanmar/भारत और म्यांमार	
59	Which of the following is used in pencils?पेंसिल में निम्नलिखित में से किसका उपयोग किया जाता है?				D
	A	Silicon/सिलिकॉन	B	Charcoal/चारकोल	
	C	Phosphorous/फॉस्फोरस	D	Graphite/ग्रेफाइट	

60	What happens to the weight of Iron, when it rusts?/जब लोहे में जंग लग जाती है तो उसका वजन क्या होता है?				D
	A	Increases for long time/लंबे समय तक बढ़ता है	B	Remains the same/वही रहता है	
	C	Decreases then increases/घटता है फिर बढ़ता है	D	Increases then decreases/बढ़ता है फिर घटता है	
61	The present Lok Sabha is the/वर्तमान लोकसभा है				D
	A	15th Lok Sabha/15 वीं लोकसभा	B	16th Lok Sabha/16 वीं लोकसभा	
	C	17th Lok Sabha/17 वीं लोकसभा	D	18th Lok Sabha/18 वीं लोकसभा	
62	Which among the following waves are most commonly used in the Night Vision Devices?/निम्नलिखित में से कौन सी तरंगें नाइट विज़न डिवाइस में सबसे अधिक उपयोग की जाती हैं?				B
	A	Microwaves/माइक्रोवेव्स	B	Infra-Red Waves/इन्फ्रा रेड वेव्स	
	C	Radio Waves/रेडियो वेव्स	D	Ultra Violet Waves/अल्ट्रा वायलेट वेव्स	
63	Which among the following can not be called an antiinflationary measure?/निम्नलिखित में से किसे मुद्रास्फीति विरोधी उपाय नहीं कहा जा सकता?				D
	A	Rationing of the Credit/ऋण का राशनिंग	B	Raising the Bank Rates/बैंक दरें बढ़ाना	
	C	Raising the Reserve Ratio Requirements/आरक्षित अनुपात आवश्यकताओं को बढ़ाना	D	Purchase of securities in the Open Markets/खुले बाज़ारों में प्रतिभूतियों की खरीद	
64	CPGRAMS platform functions under which department?/CPGRAMS प्लेटफॉर्म किस विभाग के अंतर्गत कार्य करता है?				D
	A	Department of Economic Affairs/आर्थिक मामलों का विभाग	B	Department of Commerce/वाणिज्य विभाग	
	C	Department of Pension & Pensioner's Welfare/पेंशन और पेंशनभोगी कल्याण विभाग	D	Department of Administrative Reforms and Public Grievances/प्रशासनिक सुधार और लोक शिकायत विभाग	

65	What is rat-hole mining primarily used for in Meghalaya?/मेघालय में रैट-होल खनन का मुख्य रूप से क्या उपयोग किया जाता है?				B
	A	Gold extraction/सोना निष्कर्षण	B	Coal extraction/कोयला निष्कर्षण	
	C	Sand mining/रेत खनन	D	Granite mining/ग्रेनाइट खनन	
66	Which Indian space mission successfully germinated cowpea seeds under microgravity?/किस भारतीय अंतरिक्ष मिशन ने माइक्रोग्रैविटी के तहत लोबिया के बीजों को सफलतापूर्वक अंकुरित किया?				B
	A	PSLV-C55	B	PSLV-C60 POEM-4	
	C	GSLV-MK III	D	Chandrayaan-3/चंद्रयान-3	
67	Janjatiya Gaurav Diwas(November 15) commemorates the birth anniversary of which tribal leader?जनजातीय गौरव दिवस (15 नवंबर) किस आदिवासी नेता की जयंती के रूप में मनाया जाता है?				A
	A	Bhagwan Birsa Munda/भगवान बिरसा मुंडा	B	Rani Gaidinliu/रानी गाइदिनल्यू	
	C	Tantia Bhil/तांतिया भील	D	Sidhu Murmu/सिद्धू मुर्मू	
68	Which country proposed the initiative for the International Year of Millets at the United Nations General Assembly (UNGA)?/संयुक्त राष्ट्र महासभा (UNGA) में अंतर्राष्ट्रीय बाजरा वर्ष के लिए पहल का प्रस्ताव किस देश ने रखा?				A
	A	India/भारत	B	Brazil/ब्राजील	
	C	South Africa/दक्षिण अफ्रीका	D	China/चीन	
69	Integrated Helpline Number of Indian Railway is /भारतीय रेलवे का एकीकृत हेल्पलाइन नंबर है				B
	A	182	B	139	
	C	1075	D	1098	
70	Which rule states that no railway servant shall indulge in any act of sexual harassment at the workplace?				A

	कौन सा नियम कहता है कि कोई भी रेलवे कर्मचारी कार्यस्थल पर यौन उत्पीड़न के किसी भी कृत्य में लिप्त नहीं होगा?				
	A	Rule 3C/ नियम 3C	B	Rule 5/ नियम 5	
	C	Rule 13A/ नियम 13A	D	Rule 22/ नियम 22	
71	Who was the chief guest of India's Republic Day Parade 2024? भारत के गणतंत्र दिवस परेड 2024 के मुख्य अतिथि कौन थे?				
	A	Abdel Fattah El-Sisi/अब्दुल फत्ताह अल-सीसी	B	Jair Bolsonaro/जैर बोल्सोनारो	
	C	Emmanuel Macron/इमैनुएल मैक्रॉन	D	Cyril Ramaphosa/सिरिल रामफोसा	C
72	As per the Ministry of Railways' circular dated 02.01.2025(RBE 01/2025), what is the revised minimum educational qualification required for open market recruitment in Level-1 posts in the pay matrix of the 7th CPC?/रेल मंत्रालय के दिनांक 02.01.2025 के परिपत्र (आरबीई 01/2025) के अनुसार, 7वें सीपीसी के वेतन मैट्रिक्स में लेवल-1 पदों पर खुले बाजार में भर्ती के लिए आवश्यक संशोधित न्यूनतम शैक्षणिक योग्यता क्या है?				
	A	12th Pass with ITI/12वीं पास के साथ आईटीआई	B	10th Pass/10वीं पास	
	C	10th Pass or ITI or equivalent or National Apprenticeship Certificate (NAC) granted by NCVT/10वीं पास या आईटीआई या समकक्ष या एनसीवीटी द्वारा प्रदान किया गया राष्ट्रीय प्रशिक्षुता प्रमाणपत्र (एनएसी)	D	10th Pass and ITI or equivalent or National Apprenticeship Certificate (NAC) granted by NCVT/10वीं पास और आईटीआई या समकक्ष या एनसीवीटी द्वारा प्रदान किया गया राष्ट्रीय प्रशिक्षुता प्रमाणपत्र (एनएसी)	C
73	Recently, the Prime Minister (PM) inaugurated the new Jammu Railway Division. Consider the following statements which one is correct./हाल ही में प्रधानमंत्री (पीएम) ने नए जम्मू रेलवे डिवीजन का उद्घाटन किया। निम्नलिखित कथनों पर विचार करें और बताएं कि कौन सा कथन सही है।				B

	<p>I. New Jammu Railway Division: The Jammu Railway Division has been carved from the Ambala Division/नया जम्मू रेलवे डिवीजन: जम्मू रेलवे डिवीजन को अंबाला डिवीजन से अलग करके बनाया गया है।.</p> <p>II. New Jammu Railway Division: The Jammu Railway Division has been carved from the Firozpur Division/नया जम्मू रेलवे डिवीजन: जम्मू रेलवे डिवीजन को फिरोजपुर डिवीजन से अलग करके बनाया गया है।</p> <p>III. Indian Railways now has 17 zones and 70 divisions/भारतीय रेलवे में अब 17 जोन और 70 डिवीजन हैं।</p>				
	A	Only I	B	II & III	
	C	Only II	D	I & III	
74	<p>A new Railway employee who joins service in the middle of the year is entitled to casual leave _____ for that year. एक नया रेलवे कर्मचारी जो वर्ष के मध्य में सेवा में शामिल होता है, उस वर्ष के लिए _____ आकस्मिक अवकाश का हकदार होता है।</p>				
	A	proportionate to his expected service (to be rendered) / वर्ष की शेष अपेक्षित सेवा के अनुसार	B	that is due in full / उस वर्ष में पूर्ण देय CL के	
	C	that is half the number of CL due / शेष CL की आधी संख्या के	D	None of these / इनमें से कोई नहीं	B
75	<p>Which of the following can not be combined with joining time? ज्वाइनिंग समय किसके साथ संयोजित नहीं किया जा सकता है?</p>				
	A	Leave on Average Pay / औसत वेतन छुट्टी	B	LHAP / आधी वेतन छुट्टी	
	C	CL / आकस्मिक छुट्टी	D	None of these / इनमें से कोई नहीं	C
76	<p>After, the Appointments Committee of the Cabinet, approving the decision of the Union Cabinet for reorganization of railway board on functional lines. Now there are how many members in the Railway Board including Chairman cum C.E.O./मंत्रिमंडल की नियुक्ति</p>				B

	समिति, कार्यात्मक लाइनों पर रेलवे बोर्ड के पुनः संगठन के लिए केंद्रीय मंत्रिमंडल के निर्णय को मंजूरी के उपरांत। अब, रेलवे बोर्ड में कितने सदस्य हैं जिनमें अध्यक्ष सह सी.ई.ओ. शामिल है।				
	A	4	B	5	
	C	8	D	7	
77	How NOTE/letters are circulated over "e-office"/ नोट / पत्र "ई-ऑफिस" पर प्रसारित कैसे किए जाते हैं।				
	A	Through files/ फाइलों के माध्यम से	B	Through Browse & Diarise/ ब्राउज़ और डायरिज़ के माध्यम से	
	C	c.Both / दोनों	D	None of the above/ इनमें से कोई भी नहीं	B
78	Establishment matters have been mentioned in which part of Model SOP 2018. मॉडल एसओपी 2018 के किस भाग में स्थापना मामलों का उल्लेख किया गया है।				
	A	D	B	E	
	C	G	D	F	D
79	A Railway servant seeking voluntary retirement from service should have completed at least _____ years of qualifying service. सेवा से स्वैच्छिक सेवानिवृत्ति चाहने वाले रेलवे सेवक को योग्य सेवा के कम से कम _____ वर्ष पूरे करने चाहिए।				
	A	5	B	10	
	C	20	D	None of these / इनमें से कोई नहीं	C
80	While Standard Form No. 11 is used for issuing a minor penalty chargesheet, what is Standard Form No. 4 used for? जब स्टैंडर्ड फॉर्म नंबर 11 का उपयोग मामूली दंड की चार्जशीट जारी करने के लिए किया जाता है, तो स्टैंडर्ड फॉर्म नंबर 4 का उपयोग किस लिए किया जाता है?				
	A	Appointment of Enquiry Officer / जांच अधिकारी की नियुक्ति	B	Deemed suspension / अनुमानित निलंबन	
	C	Suspension / निलंबन	D	Revocation of suspension / निलंबन का निरस्तरण	D
81	Which category of the new pension scheme is mandatory to be contributed by the employee. कर्मचारी द्वारा न्यू पेंशन स्कीम की किस श्रेणी में योगदान अनिवार्य है।				
	A	Tier-I/टियर- I	B	Tier-I & II/टियर- I और II	
	C	Tier-II/टियर- II	D	None of the above. इनमें से कोई भी नहीं।	A

82	Which of the following is the easternmost Railway division of the Indian Railways?निम्नलिखित में से कौन भारतीय रेलवे का सबसे पूर्वी रेलवे डिवीजन है?				A
	A	Tinsukia/तिनसुकिया	B	Rangiya/रंगिया	
	C	Lumding/लुमडिंग	D	Katihar/कटिहार	
83	Encashment of Leave on Average Pay (LAP) while in service. Consider following statements.Which one is correct./औसत वेतन (एलएपी) पर अवकाश का नकदीकरण। निम्नलिखित कथनों पर विचार करें।कौनसा सही है।/				D
	A	Encashment of LAP is permitted up to a maximum of 10 days of leave, so encashed during the entire period shall not exceed 60 days in the aggregate./ LAP के नकदीकरण को एक बार में अधिकतम 10 दिनों की छुट्टी की अनुमति है, इसलिए समग्र के दौरान एन्कोडेड कुल मिलाकर 60 दिनों से अधिक नहीं होगा	B	A balance of at least 30 days of LAP should be available to his/her credit taking into account the period of encashment as well as leave availed of./LAP में कम से कम 30 दिनों के शेष राशि को नकदीकरण की अवधि के साथ- उपलब्ध होना चाहिए।	
	C	Encashment of LAP, as above, is to be allowed at the time of availing of Privilege Passes/ PTOs./उपर्युक्त के रूप में, एलएपी का नकदीकरण विशेषाधिकार पास / पीटीओ के लाभ के समय अनुमति दी जानी है।	D	All of the above/ उपरोक्त सभी	
84	The Productivity-Linked Bonus is given to all non-gazetted railway employees. For the year 2023-24, the PLB is equivalent to how many days' wages will be paid. उत्पादकता से जुड़े बोनस सभी गैर-राजपत्रित रेलवे कर्मचारियों को दिए जाते हैं। वर्ष 2023-24 PLB कितने दिनों के वेतन के बराबर होगा?				C
	A	77 Days/77 दिन	B	88 Days/88 दिन	
	C	78 Days/78 दिन	D	98 Days/98 दिन	
85	What is the minimum qualification for Gr. D candidates? चतुर्थ श्रेणी में नियुक्ति हेतु वर्तमान में न्यूनतम कितनी शैक्षणिक योग्यता होनी चाहिये ?				B
	A	8वीं पास/8th Pass	B	10वीं पास/10th Pass	
	C	12वीं पास/12thPass	D	इनमें से कोई नहीं None of the above	
86	How many years of railway service must be completed for departmental promotion in railway service?				C

	रेल सेवा में विभागीय पदोन्नति हेतु कितने वर्ष की रेल सेवा पूर्ण करना आवश्यक है?		
	A 1 वर्ष/Year	B 3 वर्ष/Year	
	C 2 वर्ष/Year	D 4 वर्ष/Year	
87	What is the word DO, which is used by daily correspondence?/ DO शब्द क्या है, जिसका उपयोग दैनिक पत्राचार द्वारा किया जाता है?		
	A Demi Order /डेमी ऑर्डर	B Daily Order/दैनिक आदेश	
	C Demi Official/अर्ध सरकारी	D None of the above/इनमे से कोई भी नहीं	C
88	For the calculation of Night Duty Allowance (NDA), duty hours are counted _____. रात्रि ड्यूटी भत्ता (एनडीए) के आकलन के लिए ड्यूटी के घंटे _____ गिने जाते हैं।		
	A From 21:00 hrs to 05:00 hrs / 21:00 बजे से 05:00 बजे तक	B From 22:00 hrs to 06:00 hrs / 22:00 बजे से 06:00 बजे तक	
	C From 24:00 hrs to 06:00 hrs / 24:00 बजे से 06:00 बजे तक	D None of these / इनमें से कोई नहीं	B
89	(A) Children's Education Allowance is admissible for a maximum of three children. (B) Reimbursement of Children's Education Allowance is to be done on completion of the calendar year. (A) बाल शिक्षा भत्ता अधिकतम तीन बच्चों के लिए स्वीकार्य है। (B) बच्चों के शिक्षा भत्ते की प्रतिपूर्ति कैलेंडर वर्ष के पूरा होने पर की जाती है।		
	A Only (A) is correct. केवल (A) सही है।	B Only (B) is correct. केवल (B) सही है।	
	C Both (A) & (B) are correct. (A) और (B) दोनों सही हैं।	D Both (A) & (B) are incorrect. (A) और (B) दोनों गलत हैं।	D
90	Vijay Sharma has applied for RTI. He wants a certified copy of the service sheet of a railway employee, Mrs Devika Rani. Consider the following statement, which you will write in your note before giving it to the officer. विजय शर्मा ने आरटीआई के लिए आवेदन किया है। वह एक रेलवे कर्मचारी श्रीमती देविका रानी की सेवा-पुस्तिका की प्रमाणित प्रति चाहते हैं। निम्नलिखित विवरण पर विचार करें जो आप अधिकारी को प्रस्तुत करने से पहले अपनी नोटिंग में लिखेंगे।		
	A Yes, a copy of service can be given. but he needs to deposit required money as per number of pages./हां, सेवा की एक प्रति दी जा सकती है। लेकिन उसे पृष्ठों की संख्या के अनुसार आवश्यक धन जमा करना होगा	B No he can't be given a copy of the Service record as it's third party information./ नहीं, उसे सेवा रिकॉर्ड की एक प्रति नहीं दी जा सकती क्योंकि यह तीसरे पक्ष की जानकारी है	

	C	Yes copy of the service sheet can be given but at stage of appeal only./ हां सर्विस शीट की कॉपी दी जा सकती है लेकिन केवल अपील के स्टेज में	D	Will take no decision/ कोई निर्णय नहीं लिया जाएगा	
91	A	180 ; 15	B	15 ; 180	A
	C	365: 60	D	60 :365	
92	A	SF 5 and SF 11/एसएफ 05और एसएफ11	B	SF11 and SF 5 /एसएफ 11 और एसएफ 5	A
	C	SF11 for both/दोनों के लिए एसएफ 11	D	SF 5 for both/एसएफ 05 दोनों के लिए	
93	A	1	B	2	C
	C	3	D	4	
94	A	सेंट्रल एडमिनीसट्रेशन ट्रीब्यूनल Central Administration Tribunal	B	सेंट्रल एडमिनीसट्रेशन ट्राईब Central Administration Tribe	A
	C	सेंट्रल एडमिनीसट्रेटिव ट्रेड Central Administrative Trade	D	सेंट्रल एडमिनीसट्रेटिव ट्रीब्यूनल Central Administrative Tribunal	
95	A	Single rate.एकल दर	B	Triple rate .ट्रिपल दर	D
	C	The railway will provide a vehicle for commuting.रेलवे आने-जाने के लिए एक वाहन उपलब्ध कराएगा।	D	Double the normal rates of Transport allowance.परिवहन भत्ते की सामान्य दरों से दोगुना।	
96		What is the full form of PRAN? How many digits does a PRAN number have?/PRAN का पूर्ण रूप क्या है? PRAN नंबर में कितने अंक होते हैं?			

	A	Permanent Retirement Account Number ; 12 /स्थायी सेवानिवृत्ति खाता संख्या; 12	B	Permanent Railway Account Number ; 14 /स्थायी रेलवे खाता संख्या; 14	
	C	Provident Retirement Account Number ; 12 /भविष्य सेवानिवृत्ति खाता संख्या; 12	D	Permanent Railwaymen's Account Number; 12 /स्थायी रेलकर्मि खाता संख्या; 12	
97	In case, a Railway servant, in the performance of his official duties, acts in a discourteous manner, in his official dealings with the public, or otherwise adopts dilatory tactics or willfully causes delays in the disposal of the work assigned to him/her, then he/she violates which Rule of the Railway Services (Conduct) Rules, 1966?/यदि कोई रेलवे कर्मचारी अपने पार्षद कर्तव्यों का निर्वहन करते हुए, जनता के साथ अपने आधिकारिक व्यवहार में अभद्र व्यवहार करता है, या अन्यथा काम में जानबूझकर देरी करने की रणनीति अपनाता है, या उसे सौंपे गए कार्यों के निपटारे में जानबूझकर विलंब करता है, तो वह रेलवे सेवा (आचरण) नियम, 1966 के किस नियम का उल्लंघन करता है?				A
	A	Rule 3A/नियम 3A	B	Rule 3B/नियम 3B	
	C	Rule 3C/नियम 3C	D	None of the given options is correct./दिए गए विकल्पों में से कोई भी सही नहीं है।	
98	Benchmark for APAR for MACP would be _____ w.e.f. 25,July 2016. दि. 25.07.2016 से एमएसीपी का लाभ देने के लिए..... एपीएआर के लिए बेंचमार्क है				D
	A	Average/औसत	C	Out standing/उत्कृष्ट	
	B	Good/अच्छा	D	Very Good/बहुत अच्छा	
99	The Prime Minister inaugurated the Z-Morh tunnel aimed at improving all-weather connectivity between.प्रधानमंत्री ने जेड-मोड़ सुरंग का उद्घाटन किया जिसका उद्देश्य लद्दाख और कश्मीर के बीच हर मौसम में संपर्क को बेहतर बनाना है।				D
	A	Jammu and Amritsar./जम्मू और अमृतसर	B	Jammu and Kashmir./जम्मू और कश्मीर।	
	C	Kashmir and Gulmarg/कश्मीर और गुलमर्ग	D	Ladakh and Kashmir. /लद्दाख और कश्मीर।	
100	What's a web browser?वेब ब्राउज़र क्या है?				A
	A	A kind of spider/एक प्रकार की मकड़ी	B	A computer that stores WWW files/एक कंप्यूटर जो WWW फाइलों को स्टोर करता है	
	C	A person who likes to look at websites/एक व्यक्ति जो वेबसाइटों को देखना पसंद करता है	D	A software program that helps to access sites on the World Wide Web/एक सॉफ्टवेयर	

				प्रोग्राम जो वर्ल्ड वाइड वेब पर साइटों तक पहुंचने में मदद करता है	
101	<p>संविधान की 8वीं अनुसूची में सम्मिलित भाषाओं में निम्नांकित में से कौन - सी भाषा बोलने वाले सर्वाधिक हैं</p> <p>Which of the following languages included in the 8th Schedule of the Constitution has the highest number of speakers</p>				B
	A	गुजराती/Gujarati	B	बांग्ला/Bengali	
	C	मराठी/Marathi	D	तेलुगू/Telugu	
102	<p>संविधान के किस अनुच्छेद के अंतर्गत हिंदी को राजभाषा के रूप में दर्जा प्रदान किया गया है ?</p> <p>Under which article of the Constitution has Hindi been given the status of official language?</p>				A
	A	अनुच्छेद/Article 343 (i)	B	अनुच्छेद/Article 349 (i)	
	C	अनुच्छेद/Article 348 (i)	D	अनुच्छेद/Article 346 (i)	
103	<p>राजभाषा के प्रयोजन के लिए देश को कितने क्षेत्रों में बांटा गया है</p> <p>Into how many regions has the country been divided for the purpose of official language</p>				A
	A	3	B	4	
	C	6	D	8	
104	<p>हिंदी को संवैधानिक दर्जा कब मिला/When did Hindi get constitutional status</p>				A
	A	15/8/1947	B	26/01/1950	
	C	14/09/1949	D	14/09/1950	
105	<p>मंडल रेल कार्यालय की हिंदी कार्यसमिति के अध्यक्ष कौन होते हैं ?</p> <p>Who is the chairman of the Hindi working committee of the Divisional Railway Office?</p>				B
	A	अपर मंडल रेल प्रबंधक /Additional Divisional Railway Manager	B	मंडल रेल प्रबंधक/Divisional Railway Manager	
	C	वरिष्ठ मंडल कार्मिक अधिकारी /Senior Divisional Personnel Officer	D	इनमें से कोई नहीं/None of the above	
106	<p>संविधान की आठवीं अनुसूची के अनुसार कितनी भाषाओं को राजभाषा के रूप में सांविधानिक मान्यता प्राप्त हैं?</p> <p>According to the Eighth Schedule of the Constitution, how many languages have constitutional recognition as official languages?</p>				

	A	8	B	21	
	C	22	D	18	
107	<p>ज्ञानपीठ पुरस्कार एक भारतीय साहित्यिक पुरस्कार है जो भारतीय ज्ञानपीठ द्वारा किसी लेखक को उनके "साहित्य के लिए उत्कृष्ट योगदान" के लिए दिया जाता है। 1961 में स्थापित, यह पुरस्कार केवल भारतीय भाषाओं में लिखने वाले भारतीय लेखकों को दिया जाता है, जो भारत के संविधान की आठवीं अनुसूची में शामिल हैं। 55 वें ज्ञान पीठ पुरस्कार (2019) से किसे सम्मानित किया गया?</p> <p>The Jnanpith Award is an Indian literary award given by the Bharatiya Jnanpith to an author for their "outstanding contribution to literature". Established in 1961, the award is given only to Indian authors writing in Indian languages, which are included in the Eighth Schedule of the Constitution of India. Who was awarded the 55th Jnanpith Award (2019)?</p>				
	A	कृष्णा सोबती/Krishna Sobti	B	दामोदर मौउजो/Damodar Mauzo	
	C	अमिताव घोष/Amitav Ghosh	D	अक्वितम अच्युतन नंबूदरी/Akitham Achutan Namboodiri	B
108	<p>केंद्रीय हिंदी समिति की बैठक की अध्यक्षता कौन करता है?</p> <p>Who presides over the meeting of the Central Hindi Committee?</p>				
	A	प्रधान मंत्री/Prime Minister	B	गृह राज्य मंत्री/Minister of State for Home Affairs	
	C	केंद्रीय गृह मंत्री/Union Home Minister	D	इनमें से कोई नहीं/None of the above	A
109	<p>आपको एक पत्र अंग्रेजी में प्राप्त हुआ है उस पत्र पर हस्ताक्षर हिंदी में किए हुए हैं तो आप उस पत्र का उत्तर कौन सी भाषा में देंगे।</p> <p>You have received a letter in English and the letter is signed in Hindi. In which language will you reply to that letter?</p>				
	A	हिंदी/Hindi	B	अंग्रेजी/English	
	C	दोनों भाषाओं में दे सकते हैं /can be given in both languages	D	ऐसा कोई नियम नहीं है /there is no such rule	A
110	<p>राजभाषा नियम के अंतर्गत "क" क्षेत्र में स्थित सरकारी कार्यालयों में कितने प्रतिशत कार्य हिंदी में होना अपेक्षित है ?</p> <p>Under the Official Language Rules, what percentage of work is expected to be done in Hindi in government offices located in "A" area?</p>				
	A	80%	B	75%	
	C	100%	D	ऐसा कोई बंधन नहीं है।/There is no such restriction.	C

The End